

QUESTIONNAIRE – VISITE GUIDÉE

Les berges du Maroni

Besoin d'aide ? Il y a :

Un porte-conteneurs, une pirogue businenge, un canot amérindien, un crevettier, un bateau de transport

1. NOTE ICI LES LETTRES DES BATEAUX 2 – 3 – 5 :

.....

2. NOTE ICI LA LETTRE DE LA REPONSE :

.....

3. NOTE ICI LA LETTRE DE LA REPONSE :

.....

4. NOTE ICI LA LETTRE DE LA REPONSE :

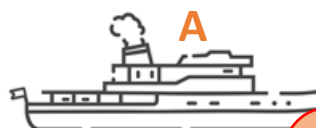

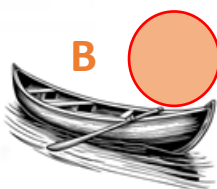

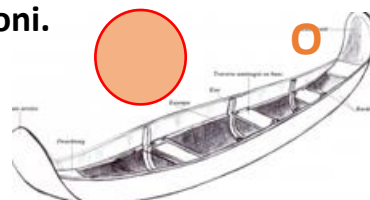

.....

⇒ **Le personnage**

recherché s'appelle

.....

1. Numérote les bateaux dans l'ordre de leur apparition sur le Maroni.



2. Quelle est la longueur du Maroni ?

- a) 320 km b) 610 km c) 1200 km

K

A

L

3. Quel est le nom du Maroni à sa source ?

- a) Itany b) Sinnamary c) Commewijne

T

E

M

4. Une espèce de poisson ne se trouve presque que dans Le Maroni : quel est son nom ?

- a) l'aïmara b) l'acoupa c) le jamais-goûté

Y

O

U

⇒ **En remplaçant les lettres dans le bon sens, tu trouveras le nom du capitaine aluku qui a accompagné Jules Crevaux et Henri Coudreau dans leur relevé du cours du Maroni afin de délimiter la frontière d'avec la Guyane néerlandaise à la fin du 19^{ème} siècle.**

