

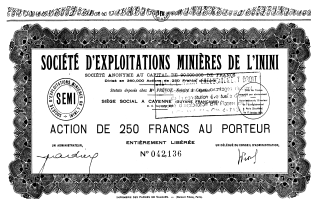


# CASE ENTREE DROITE

Bienvenue au Centre d'Interprétation d'Architecture et du Patrimoine de la ville de Saint-Laurent-du-Maroni. Tu es venu ici pour découvrir l'histoire du bagne, de la ville et de ses habitants présentée dans l'ancien camp de la Transportation qui était une .....

1. Pour commencer la visite, relie les images qui racontent l'histoire du peuplement de la Guyane et de Saint-Laurent-du-Maroni à la période concernée.
2. Sous chacune d'entre elles, écris un titre. Regarde bien l'exemple proposé!

- 12 000 à 1 500	1652- 1848	de 1854 à nos jours	1852-1953	1930-1979	1986-1992	1990 à nos jours
La Guyane précolombienne	Le temps de l'esclavage Marronnage – abolition	La ruée vers l'or	Le temps du bagne	De la colonie au DOM	La guerre civile au Suriname	Une ville en forte extension



- a)..... b) *un village amérindien* c)..... d)..... e)..... f)..... g).....

3. En regardant bien le planisphère au sol et à l'aide des questions 2 et 3, réponds aux phrases suivantes :

- Sur quel continent se trouve la Guyane ?.....
- Quel océan sépare la Guyane de la France métropolitaine ?.....
- Comment expliquer les très fortes migrations venues d'Afrique entre le 17ème et le 19ème siècles ?.....
- De quels continents sont issus les habitants de la Guyane ? .....

A	O	I	Y	G	L	N	S	w

4. D'après le code ci-contre, trouve comment on appelle :

a) « la Guyane » en créole guyanais



b) « Saint-Laurent » en ndjuka tongo :



5. Quel est ce mot mystère que nous te souhaitons et qui se dit :

Tos txais ! en hmong Fa e go ? En ndjuka Welkom ! en néerlandais Ki jan aw! En créole guadeloupéen Ewëto manka : en wayana  
 Sa tou fé ? en créole guyanais Bem-vindo ! en brésilien Bienvenido ! en espagnol Halika diako ha? en arawak  
 A kouman ! en créole cayennais

=> le mot mystère est \_ \_ \_ \_ \_ !